

PROPOSTA DIDÀCTICA



FITXA DEL LLIBRE



TÍTOL DE L'OBRA:

AUTOR:

IL·LUSTRADOR:

EDICIONS BROMERA

COL·LECCIÓ:

SÈRIE: NÚM.:

ACTIVITATS



1. Qui és el protagonista del llibre?

.....



2. Amb qui viu?

.....
.....



3. Quina particularitat tenen els noms de Valeri i Elvira?

.....
.....



4. Què troba Valeri al seu edifici quan torna de l'escola en el primer capítol?

.....
.....



5. Encercla els adjectius que penses que defineixen millor a Elvira.

descarada

tímida


introvertida

ALEGRE

xarradora

simpàtica

seriosa



 **6.** Indica si les afirmacions són vertaderes (V) o falses (F).

A l'àvia de Valeri li encanten les matemàtiques.	
L'àvia conta que els indígenes de l'Amazones tenien només deu nombres.	
Gràcies a l'arribada d'Elvira, a classe li serà més fàcil organitzar-se en grups.	
La mare d'Elvira dóna les tornes malament als clients.	
Finalment, Valeri confessa a Elvira els seus sentiments.	



 **7.** Reescriu les oracions falses de l'exercici anterior perquè siguin vertaderes.

.....

.....

.....

.....

 **8.** Per què el mestre de la classe de Valeri diu que feia temps que esperaven a Elvira?

.....


.....

.....

.....

.....

.....

 **9.** Explica quin truc els ensenya l'àvia Balbina per a recordar la taula del 9 i escriu-la fent-lo servir.

.....

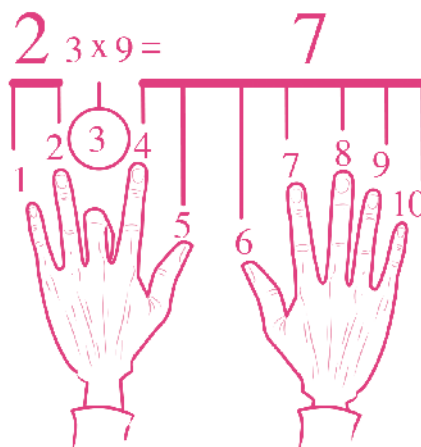
.....

.....

.....

.....

.....





10. Quina taula de multiplicar li resulta especialment difícil a Elvira? I a tu, hi ha alguna que et coste recordar?

.....



11. L'àvia els conta una rondalla sobre tres germans que busquen un tresor custodiat per un monstre de dos caps. Quan els dos germans majors intenten entrar a la cova, el monstre se'ls menja. Per què?

.....



12. Imagina que et trobes davant de la gran roca a la porta de la cova del tresor. Escribe les respostes a aquests nombres que proposa el monstre.

Catorze:
 Huit:
 Vint:
 Zero:
 Deu:
 Dotze:





13. Quin accident ha tingut l'àvia de Valeri i com va ocórrer?

.....



14. A la rondalla del roder, aquest demana per la ferradura de deu forats un cèntim en el primer forat, dos cèntims en el segon, quatre en el tercer... Escriu quants cèntims demana en cada forat i suma quants diners són en total.

1r forat: 0,01 €

2n forat: 0,02 €

3r forat: 0,04 €

4t forat:

5é forat:

6é forat:

7é forat:

8é forat:

9é forat:

10é forat:

Total:




15. Observa el dibuix i explica què ocorre.

.....



16. Quin error té la caixa de la pescateria i com se n'adona l'àvia Balbina?



.....



17. Que passa amb l'abadeget?

.....

.....

.....

.....

.....

.....

.....

.....



18. Com acaba finalment el malentés entre la mare d'Elvira i el pescater?

.....

.....

.....

.....

.....

.....

.....



19. Què sent Valeri per Elvira? Per què creus que no s'atreveix a dir-li-ho a la xiqueta?

.....

.....

.....

.....

.....

.....

.....

.....

.....



20. Creus que ella sent el mateix? Per què?

.....

.....

.....

.....


.....

.....

.....

.....

.....





21. Valeri vol comprar un quart de quilo de figues. Un quilo de figues val 8,40€. Què li costarà el quart de quilo? Fes els càlculs de dues formes diferents, seguint l'exemple de l'abadeget.



22. Practica el truc de màgia del nombre 9 que s'explica al final del llibre.

- Si trien el nombre 17.

- Si trien el nombre 83.





La teua àvia és una crack de les mates

A Valeri no li agraden les matemàtiques. Sempre remuga quan la seua àvia Balbina li demana que li explique què ha après a l'escola. Però quan coneix Elvira, ho veu tot d'una altra manera. Mentre l'àvia els prepara rosques fregides amb llet i canella i bunyols de carabassa per a berenar, escolten atents les seues històries de nombres, divisions, fraccions i percentatges. És aleshores quan Valeri comprén quina és la màgia de les matemàtiques.

Amb l'àvia Balbina aprendràs

Què són els nombres naturals
Les taules de multiplicar i les divisions
Com es calculen les fraccions i els percentatges

