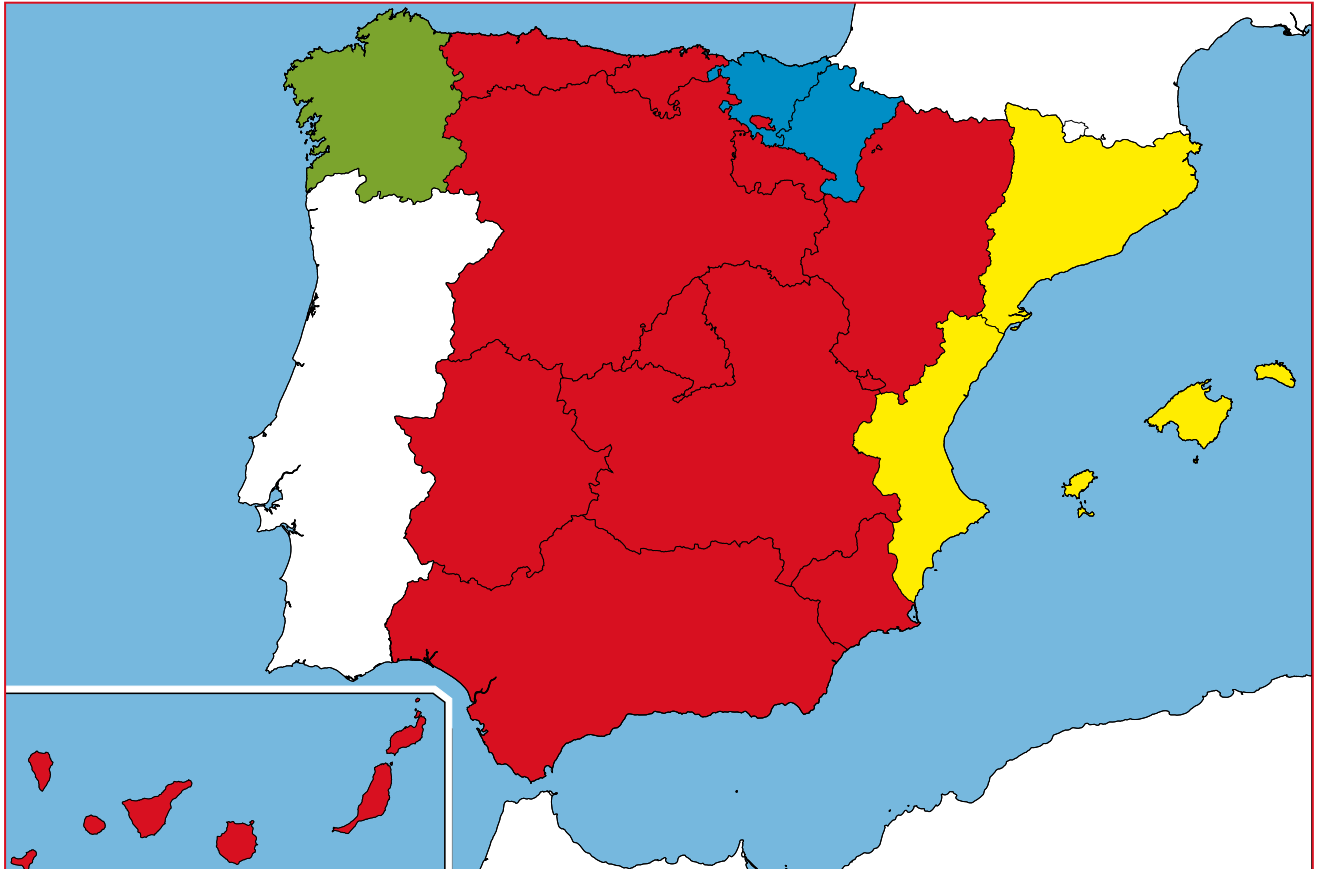






# Quadern de Vacances



**1. Observa el mapa lingüístic de l'Estat espanyol i completa la llegenda amb les llengües que es parlen a cada territori.**



**2. Completa els embarbussaments amb les grafies **b** o **v**. Després, intenta llegir-los tan ràpidament com pugues.**

- .....isc al .....osc i .....usque .....esc i .....isc del .....esc que .....usque al .....osc.
- .....a.....au .....eu .....i .....o i .....iu .....é.
- L'esti.....a que esto.....a Este.....e, no és to.....a ni és te.....a ni esta.....a a l'esti.....a.

**3. Consulta un diccionari de sinònims i antònims i completa la taula.**

Paraula	Sinònim	Antònim
content		
lluny		
fèrtil		
igual		
legítim		
capacitat		





1. Aquests nombres s'han desordenat. Copia'ls ordenats de menor a major.

231.145.120      412.312.410      231.146.124      321.451.311      321.451.210

..... < ..... < ..... < .....

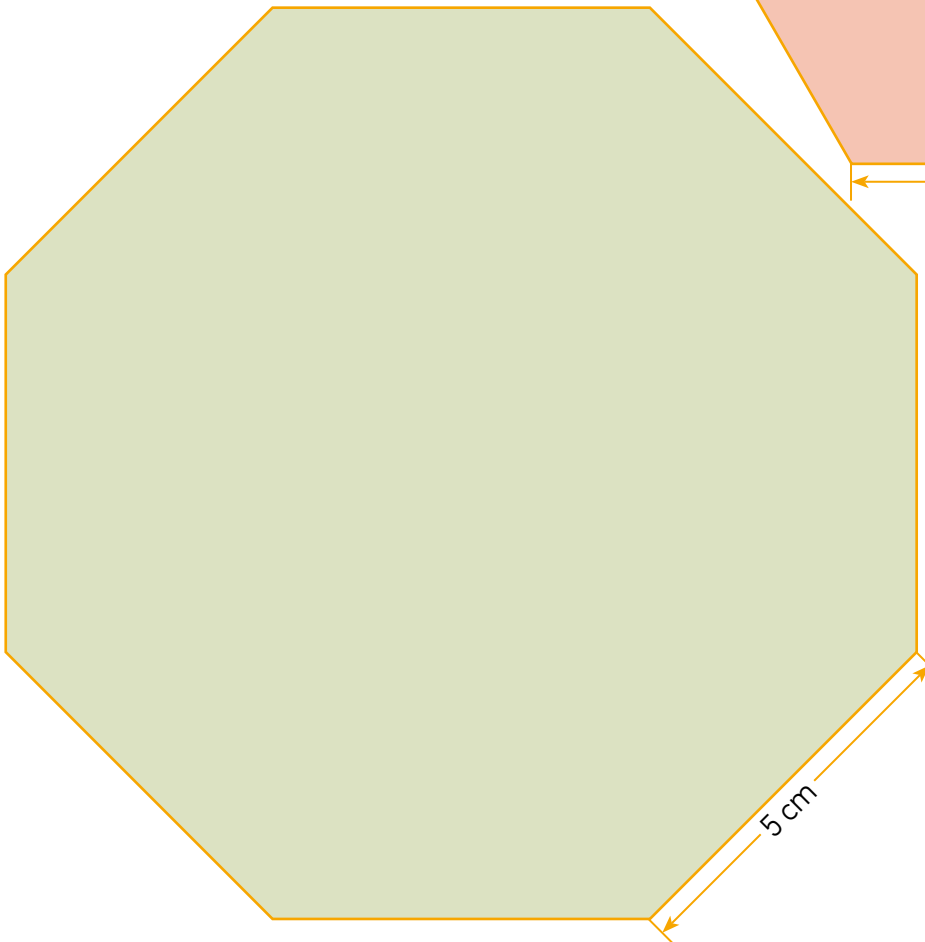
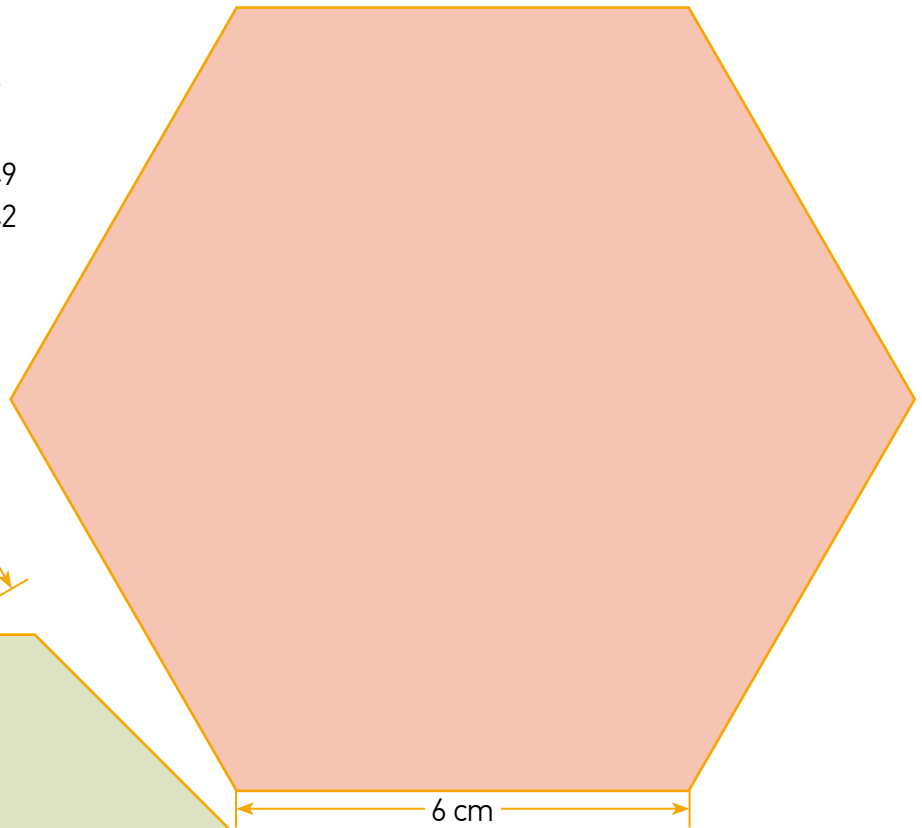
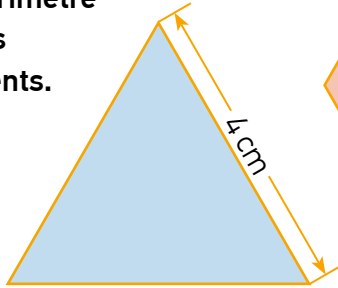
• Escriu amb lletra el nombre més gran dels anteriors.

.....

2. Relaciona.

- |               |          |
|---------------|----------|
| XXXXLIX •     | • 3.462  |
| XIVDCCCXLII • | • 194    |
| MMMCDLXII •   | • 30.049 |
| CXCIV •       | • 14.742 |

3. Calcula el perímetre de les figures planes següents.



El perímetre d'una figura plana és la suma de les longituds dels seus costats.




**1. Observa la situació comunicativa i completa.**



- Emisor: .....
- Receptor: .....
- Mensaje: .....
- Código: .....
- Canal: .....

**2. Este texto ha perdido algunas tildes. Léelo y corrige las palabras que las necesiten.**



Dudo que nadie haya rodado nunca una película en nuestra ciudad, con excepción del video que grabo Alex con su móvil, cuando Justin intentó dar un salto de trampolín desde la marquesina del café del mercado y fue a parar a la fuente de la plaza. En YouTube el video tuvo 5.025 seguidores, uno de los cuales era japonés y dejó un comentario. Su comentario no lo entendió nadie, porque era japonés, pero desde entonces los dos piensan que su futuro está en Asia.

Alex y Justin son mis mejores amigos. También son los únicos, porque no hace mucho tiempo que vivo aquí. No es que sean muy listos, pero son dignos de confianza. Quiero decir que, a veces, lo son.

RÜDIGER BERTRAM. *Coolman y yo. Estrellas de cine*

**3. Descifra el mensaje según el código.**

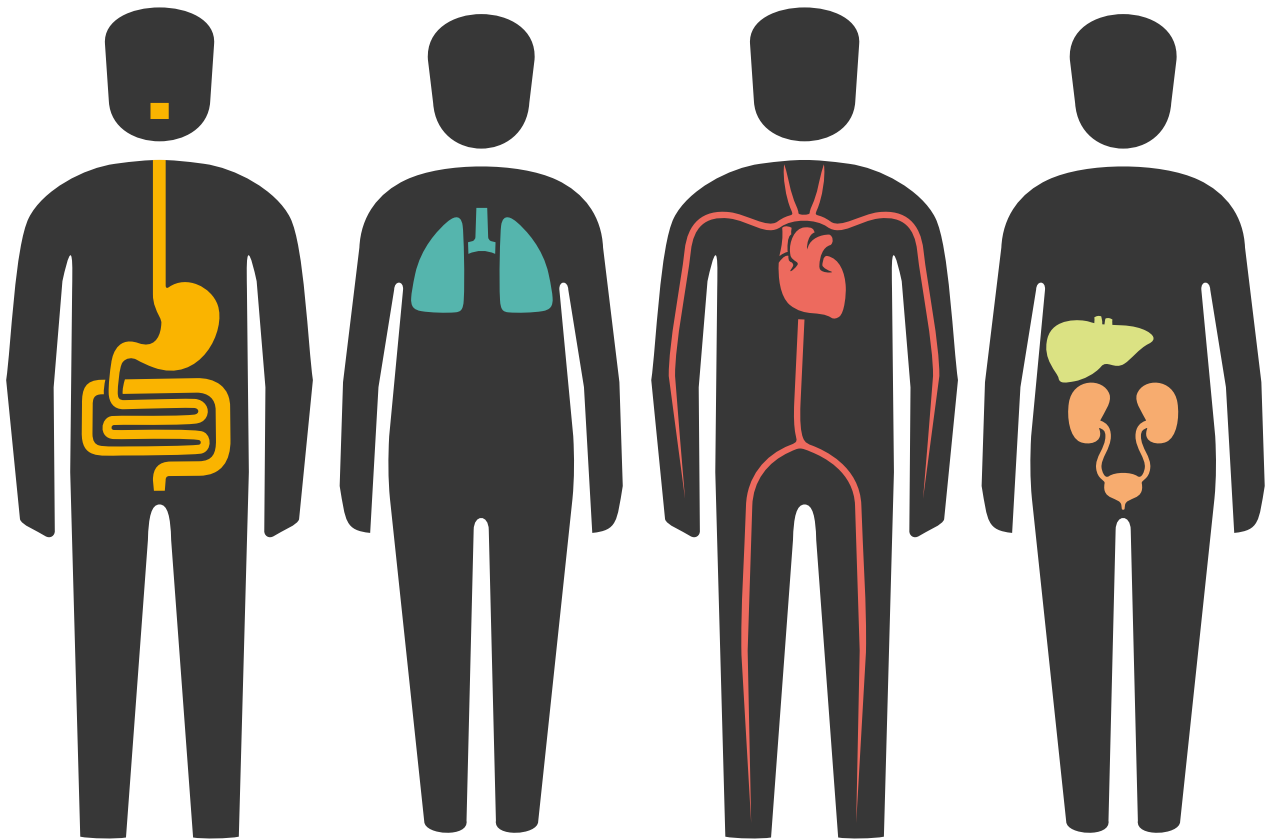
¤	¥	¢	ω	⊙	ψ	φ	ç	ђ	д	τ	∫
A	C	E	F	I	L	N	O	S	V	i	!

τ	ω	¢	ψ	⊙	¥	¢	ђ

д	¤	¥	¤	¥	⊙	ç	φ	¢	ђ	∫

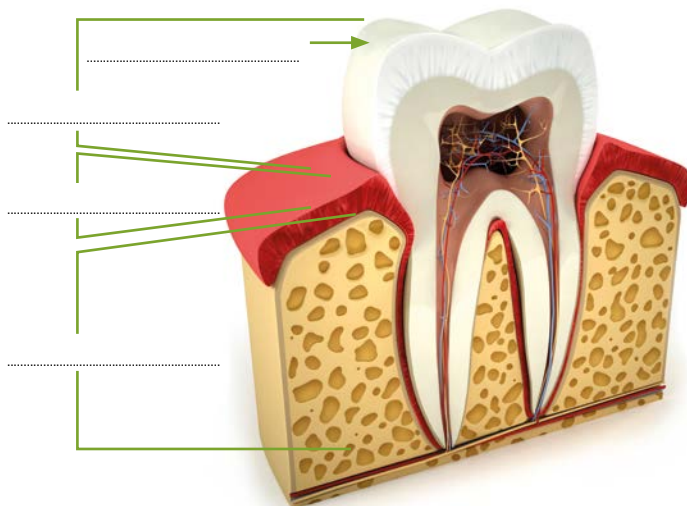


1. Relaciona cada sistema amb el seu nom i la seua funció.



Respiratori	Circulatori	Excretor	Digestiu
Agafar oxigen de l'aire per a purificar la sang.	Transportar els nutrients i les substàncies de rebuig.	Eliminar les substàncies de rebuig.	Digerir els aliments.

2. Copia al lloc corresponent aquestes parts d'un queixal: arrel, esmalt, corona i coll.



3. Troba en la sopa de lletres el nom de sis aliments saludables.

A	T	Q	S	E	R	T	Y	O
P	O	M	A	X	C	V	N	L
Z	M	A	R	C	V	B	C	U
B	A	D	D	R	Q	I	E	M
U	C	V	I	O	G	U	R	T
I	A	G	N	U	X	C	E	O
O	C	C	A	B	N	U	A	M
T	A	R	O	N	J	A	L	U
P	B	A	Z	X	C	V	S	G

**1. Match the words with their definition and complete.**

- |           |  |
|-----------|--|
| City •    | • A small town in the country.   |
| Village • | • A place in which people live that is larger or more important than a town.       |
| Town •    | • A place where people live that is larger than a village but smaller than a city. |

I live in a ..... (city, village, town) called ..... in the province of ..... I go to the school ..... (walking, by car, by bike...) because it's ..... (near to, far away from, close to...) my house.

**2. Write in the correct place these rooms and home equipment.**

- dining room   sink   living room   armchair   sofa   bathroom   chair   kitchen  
 rocking chair   microwave   shower   tablecloth   washing machine   bath   fridge   table




**3. Complete the crosswords. Pictures can help you.**

1

5

2

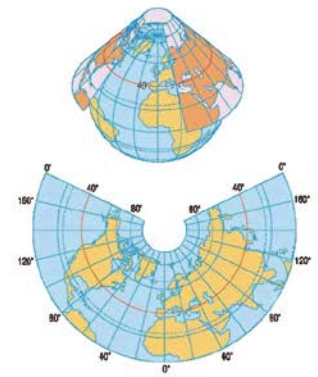
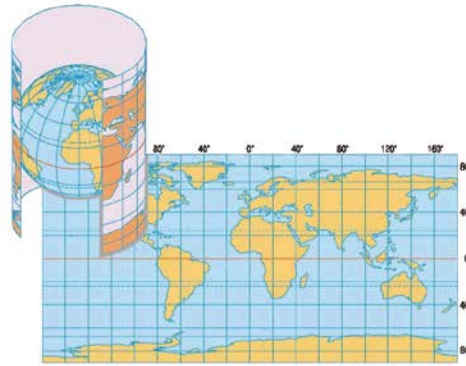
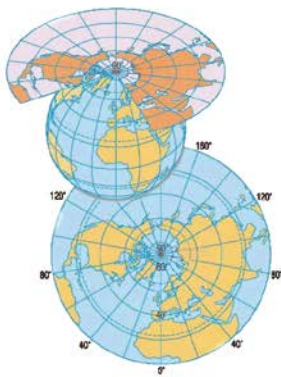
3

4

1	2	3	4	5
G	H			
	L			
E				M
E				E



1. Escriu de quin tipus de projecció cartogràfica es tracta: cilíndrica, cònica o plana.



2. Identifica en el mapa els elements següents: títol, rosa dels vents, escala i llegenda.



3. Relaciona.

1. Mapa polític

2. Mapa temàtic

3. Mapa físic

