



EUREKA

QUADERN D'ACTIVACIÓ DE LA INTEL·LIGÈNCIA



Coneixes Lola, Pep i Samir? Aquests són els noms dels amics que t'acompanyaran al llarg de tot el quadern. I així són ells:



Nom: Lola
Edat: 5 anys
Lloc de naixement: València
Habilitats: li agrada resoldre enigmes, té molts amics.
Aficions: jugar a futbol i tocar el piano.
Persones significatives: el seu germà Pep, la iaia.



Nom: Pep
Edat: 8 anys
Lloc de naixement: València
Habilitats: balla i canta molt bé, li agrada practicar jocs de taula.
Aficions: tocar la guitarra, ballar *hip-hop* i jugar al ping-pong.
Persones significatives: el pare, el seu amic Samir.



Nom: Samir
Edat: 8 anys
Lloc de naixement: Orà (Algèria)
Habilitats: cantar, jugar a futbol.
Aficions: jugar a futbol i fer avions de paper.
Persones significatives: el iaio, el seu amic Pep.


1. Llig atentament les fitxes dels personatges i segueix les instruccions.

- Subratlla el nom del qui juga a futbol.
- Encercla el nom que té més lletres.
- Barra la segona lletra del nom del xiquet que fa avions de paper.
- Barra la primera lletra del nom de la germana de Pep.
- Subratlla la ciutat europea i encercla la ciutat africana que apareixen en les descripcions.

2. Pinta els dibuixos de la pàgina anterior en funció de les característiques següents.

- Pep té els cabells castanys i els ulls verds. Vist camiseta blava i gorra verda.
- Lola és castanya, de pell morena i ulls marrons. Vist de color violeta.
- Samir és moreno, amb els ulls negres i els cabells negres i rulls. Té la pell bastant morena. Porta una camisa de color verd clar.

3. Observa la família de Pep i Lola.



● Completa les relacions de parentesc següents.

- Pep és el de Jordi. Andrea és la de Loli.
 Albert és el de Jordi. Jordi és el d'Andrea.
 Lola és la de Pep. Loli és la de Jordi.

4. Dissenya el teu arbre genealògic. Usa un esquema paregut al de l'activitat 3, a partir del qual pots afegir o llevar quadres en funció de les persones que formen la teua família.



1. Samir té més amics que Pep, i Pep en té més que Lola.

- Qui té més amics dels tres?
- Qui té menys amics?

2. Samir té 26 cromos de la lliga de bàsquet; Pep en té 28; Lola té més cromos que Samir i menys que Pep.

Lola té cromos.

3. En la pinyata de la festa d'aniversari de Pep, Samir ha agafat 8 caramels, Lola 9 i Pep només 4.

- Fes una pregunta perquè la resposta siga «21 caramels».
.....
.....
- Fes una pregunta perquè la resposta siga «12 caramels».
.....
.....
- Com els podrien repartir per a tenir tots el mateix nombre de caramels?
.....
.....

4. Samir i Lola van al quiosc. Samir té un bitllet de 10 euros i Lola té unes quantes monedes d'1 euro. Qui pot comprar més coses?

Raona la resposta:

.....

.....

.....

.....





5. Sabem que Pep és el germà gran de Lola i que els seus pares es diuen Andrea i Jordi. Respon si és vertader o fals.


Lola va nàixer abans que Pep.	
Lola té menys anys que Andrea.	
Jordi és major que Pep.	
Pep va nàixer abans que Andrea.	







1. Ací tens part de les ferramentes de treball que fan servir els familiars de Pep i Lola. Acaba els dibuixos.



2. Encercla els tres elements que siguen exactament iguals que els del model.



3. Copia els símbols del quadre de l'esquerra en el de la dreta en la mateixa posició.



4. Copia els dibuixos amb l'ajuda de la quadrícula.

