

Cuaderno de Vacaciones



1. Llig i contesta.

Un diumenge de matí, acabant el segon cap de setmana del mes de maig, a la comissaria del poble del costat sonà el telèfon.

–Sí, diga'm. Comissaria de policia. En què podem ajudar-lo?

–Policia? He sigut víctima d'un robatori –des de l'altre costat, parlava una dona amb veu molt alterada.

–A veure. **Conte'm** què ha passat.

–M'han **furtat** el nom!

L'agent de policia Blai es quedà un **instant** en silenci.

–Disculpe, senyora. Com ha dit?

–Que m'han furtat el nom. Ha sigut esta nit mentre dormia, perquè ahir abans d'aplegar a casa encara el tenia. Però hui en eixir de casa per anar a treballar...



DAVID NAVALÓN. *Aitana, investigadora privada*



- Quan i on sona el telèfon?
- Quin policia atén la telefonada?
- Què ha passat?

2. Troba un sinònim per a cada una de les paraules destacades en el text anterior.

- què ha passat.
- M'han el nom!
- Blai es quedà un en silenci.



3. Separa en síl·labes les paraules i encercla la tònica.

diumenge: robatori:

setmana: agent:


comissaria: aplegar:

4. Troba en el text dues paraules amb accent tancat i dues amb accent obert.

- Accent tancat:
- Accent obert:



1. Indica cómo son estas líneas: paralelas, perpendiculares, oblicuas o segmentos.



.....

2. Divide la primera recta en dos semirrectas y delimita un segmento en la segunda.



3. Descompón los números siguientes.

Número	Descomposición
35.264	$30.000 + 5.000 + 200 + 60 + 4$
53.642	
65.423	
42.365	
26.354	



4. ¿Qué tienen en común los números anteriores?

.....

5. Relaciona.

- | | |
|---|----------|
| Sesenta y cinco mil cuatrocientos veintitrés • | • 35.264 |
| Cuarenta y dos mil trescientos sesenta y cinco • | • 53.642 |
| Veintitrés mil trescientos cincuenta y cuatro • | • 65.423 |
| Treinta y cinco mil doscientos sesenta y cuatro • | • 42.365 |
| Cincuenta y tres mil seiscientos cuarenta y dos • | • 26.354 |

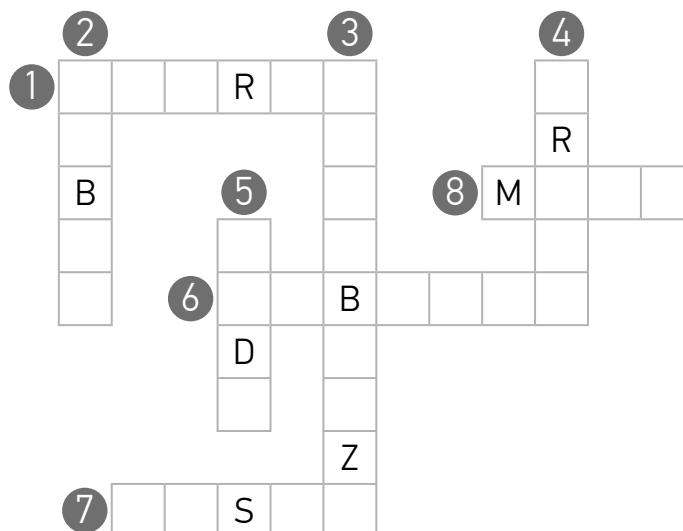
6. Escribe tres números más que no hayan aparecido, usando solo las cifras anteriores.

.....



1. Resuelve el crucigrama.

1. Extremidad inferior en conjunto.
2. Parte más baja del vientre, justo encima de los órganos sexuales.
3. Parte del brazo que va del codo a la muñeca.
4. Extremidad superior en conjunto.
5. Parte del brazo que permite doblarlo hacia delante.
6. Agujero que tenemos en mitad del vientre, cicatriz donde teníamos el cordón umbilical.
7. Parte de la pierna que va del tronco a la rodilla.
8. Órgano de la mujer que tiene la función de amamantar a los bebés.



2. Clasifica según la posición que ocupan en el cuerpo.

pie muñeca tobillo espalda codo pecho
orejas mano abdomen frente muslo nariz

Cabeza	Tronco	Extremidades superiores	Extremidades inferiores
.....
.....
.....

3. Escribe y ordena las etapas de la vida.



.....



.....



.....



.....

1. Complete with your personal details.

My name is
 and I'm years old.
 I live in (avenue, street, square...),
 in (city, village...) and my phone number
 is



2. Match.

- | | |
|-----------|--|
| Daddy • | • A male who has one or both parents in common with another. |
| Mummy • | • The father of your father or mother. |
| Brother • | • The mother of one's father or mother. |
| Sister • | • A male parent. |
| Granny • | • A female who has one or both parents in common with another. |
| Grandad • | • A female parent. |

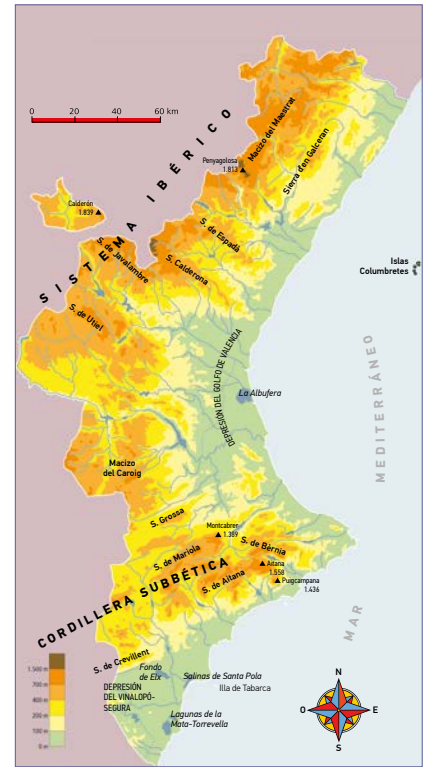
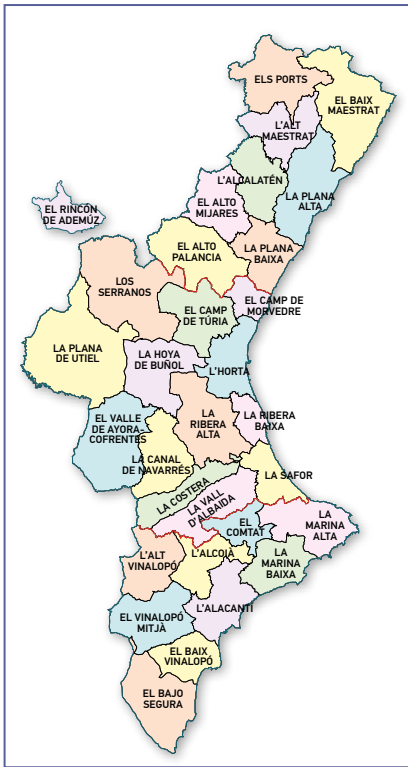
3. Find and circle in the picture Sam's relatives.

- Sam's uncle is tall and blond.
- Sam's aunt wears sunglasses and flip-flops.
- Sam's cousins are twins.
- Sam's sister is a baby.
- Sam's father wears a cap.





1. Indica si los mapas siguientes son físicos, políticos o temáticos.



2. Marca verdadero (V) o falso (F).

	V	F
Un mapa de carreteras es un ejemplo de mapa físico.		
En un mapa político figuran las fronteras entre territorios.		
En los mapas físicos tienen que aparecer los nombres de los países.		
En un mapa físico encontramos diversos colores según la altitud del terreno.		

3. Fíjate en el mapa político de la Comunidad Valenciana y resuelve.

- Anota el nombre de dos comarcas del interior:
- Anota el nombre de dos comarcas litorales:
- Anota el nombre de dos comarcas del norte:
- Anota el nombre de dos comarcas del sur:

4. ¿Cómo se denomina tu comarca y con qué comarcas limita?

.....

.....