

QUADERN D'ENIGMES

Entrenem la

lògica

1



Segon
cicle

materials educatius
per a l'escola valenciana
bromera.txt

Ací tens com funciona el quadern. Fixa-t'hi bé.
Després, ajuda'ns a resoldre els 25 enigmes!



El **text** i la **il·lustració** posen el decorat i donen les informacions útils per a resoldre l'enigma.



Ací tens la pàgina del «**Misteri resol**». Les respostes que hi traslades et permetran resoldre un darrer misteri.



La **lupa** destaca la pregunta de l'enigma.

- **Tria la resposta** entre la llista de propostes o **escriu-la**.
- **Trasllada la resposta** a la pàgina indicada per a resoldre el misteri.

Si no trobes la clau de l'enigma, aquestes **pistes** et posaran en el camí.

Pots **comprovar la resposta** ací, girant el quadern.

ENIGMA 1

COL·LECCIÓ DE SEGELLS

Com que és molt desmanyotat, Tomàs ha abocat la capsa dels segells que Daniel acabava de classificar. Un segell no estava al lloc entremig dels altres. Fixa-t'hi bé!



A

ajuda Tomàs a trobar-lo perquè no el pose de nou a la capsa.

El segell intrús és el núm.

Pàgina 10, pinta de verd les zones que tenen el número d'aquest segell.

PISTES

1. El número del segell és un nombre senar.
2. No representa un animal.
3. La particularitat d'aquest segell no està en el tema que representa.

Resposta: És el segell número 3 (no té el mateix nombre de dents que els altres).
Pàgina 10, pinta de verd les zones amb un 3.

ENIGMA
2

DISTRACCIÓ

Allò que ha de passar, passa. Ficant una altra vegada els segells en la capsa, Tomàs n'ha perdut un. Fixa-t'hi de nou!



Compara les dues sèries, la de la pàgina 6 i la de la pàgina 7, i localitza'l.

És el segell núm. el que Tomàs ha perdut ordenant la col·lecció.

Pàgina 10, pinta de roig les zones que porten el número d'aquest segell.

PISTES

1. El número del segell perdut és un nombre senar.
2. És semblant a un altre segell.
3. És un segell de «llavors».



Resposta: És el segell número 5 (no té el mateix nombre de dents que els altres).
Pàgina 10, pinta de roig les zones amb un 5.

ENIGMA
3


PEÇA RARA

Tomàs col·lecciona banderins dels clubs d'esport. En té ja cinc, que ha penjat en la porta de l'armari.

Ací estan:



Li falta un banderí per a completar la col·lecció... però, quin?



Quin banderí voldria tenir Tomàs?

És el banderí núm.

Pàgina 10, pinta de blau les zones que tenen el número d'aquest banderí.

PISTES

1. El banderí que Tomàs busca té groc.
2. Està entre dos banderins que tenen roig.
3. Porta un nombre parell.




Resposta: És el banderí número 2.
Pàgina 10, pinta de blau les zones amb un 2.

ENIGMA
4

TACAT!

Mala sort! La germana de Tomàs ha bolcat un pot de pintura per damunt d'un dels banderins de la col·lecció del xiquet. Observa els banderins.



Quin color s'ha tacat completament?

Encercla la resposta correcta.

1. verd 2. negre 3. blanc 4. carabassa 5. blau 6. roig

Pàgina 10, pinta de groc les zones del número del color tacat.

PISTES

1. Cada banderí té el seu contrari.
2. Tots els colors apareixen el mateix nombre de vegades.





Resposta: És el roig.
Pàgina 10, pinta de groc les zones amb un 6.

ENIGMA
5

XUC-XUC!

Està plovent. Des d'aquest matí. És el moment ideal per a jugar al tren. Tomàs forma una sèrie de vagons.



60

67

72

Quin ha d'enganxar per a acabar el comboi?

Tomàs ha d'enganxar el vagó núm.

Pàgina 10, pinta de carabassa les zones que porten el número d'aquest vagó.

PISTES

1. El vagó porta un nombre parell.
2. Quan Tomàs acabe el comboi, no tindrà 2 vagons idèntics.
3. El nombre és un múltiple de 5.

Resposta: És el vagó número 60.
Pàgina 10, pinta de carabassa les zones amb un 60.