



Cuaderno de problemas

2^o

Primaria • Matemáticas






1 Laura y Dídac han ido a pescar. Laura ha pescado 8 salmones y Diego, 7 doradas. ¿Cuántos peces han pescado en total? Representa y resuelve.


Laura ha pescado salmones.

Diego ha pescado doradas.

LAURA



DÍDAC



Con dibujos	
Con regletas	Con operaciones



Solución: Han pescado peces en total.



2 Laura tiene 28 cromos en un álbum y le regala 12 a María. ¿Cuántos cromos le quedan a Laura? Tacha y responde.

Laura tiene cromos.

Le regala a María cromos.



Solución:

En el álbum de Laura quedan cromos.



3 En el autobús escolar iban 36 niños, si bajan 6 en la parada, ¿cuántos se quedan en el autobús? Lee el problema otra vez, piensa y rodea la operación correcta.

El autobús llevaba niños.

Bajan niños.



$$\begin{array}{r} 36 \\ + 6 \\ \hline 42 \end{array} \qquad \begin{array}{r} 36 \\ - 6 \\ \hline 30 \end{array}$$

Dibuja el problema:



Solución: Quedan niños en el autobús.



4 Un pastor tiene 24 ovejas. Si ha dejado 13 encerradas y el resto han salido a pastar, ¿cuántas ovejas tendrá que recoger el perro?

El pastor tiene ovejas.


Hay ovejas encerradas.



Solución: El perro tiene que recoger ovejas.

5 En una granja, las gallinas han puesto dos decenas de huevos por la mañana. Si por la tarde dan una decena más, ¿cuántas decenas han puesto en total? Dibuja.

Las gallinas han puesto huevos por la mañana.
Por la tarde han puesto huevos.




Solución: Han puesto huevos en total.

6 Elige el enunciado correcto para la operación de abajo y resuelve.

En el jardín de María hay flores de muchos colores: hay 2 rosas blancas, 8 margaritas amarillas y 5 claveles rosa. ¿Cuántas rosas tiene María en el jardín?

En el jardín de María hay rosas de muchos colores: hay 2 blancas, 8 rojas y 5 amarillas. ¿Cuántas rosas tiene María en el jardín?




$2 + 8 + 5 =$ rosas.

..... tiene rosas.

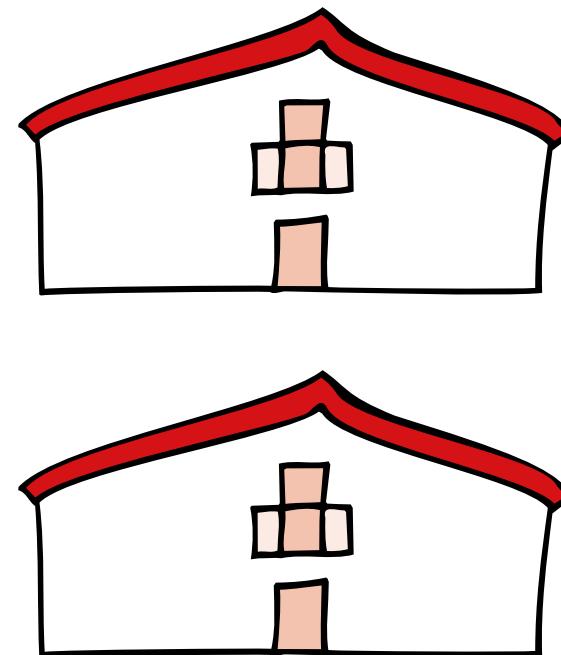
7 Joaquín es un pastelero muy famoso que elabora 8 pasteles cada día. Si por la mañana hace 6, ¿cuántos pasteles le quedan por preparar?

Joaquín tiene que elaborar pasteles.
Tiene preparados pasteles.



Le quedan por preparar pasteles.

8 En la casa de la cultura de Burjassot, Daniel tiene expuestos 6 cuadros. Si en la casa de la cultura de Picassent tiene el doble, ¿cuántos cuadros tiene expuestos en Picassent?



En Picassent, Daniel tiene expuestos cuadros.