



# Quadern de problemes **2<sup>n</sup>**

**Primària • Matemàtiques**






**1** Laura i Dídac han anat a pescar. Laura ha pescat 8 salmons i Dídac, 7 dorades. Quants peixos han pescat en total? Representa i resol.


Laura ha pescat ..... salmons.

Dídac ha pescat ..... dorades.

**LAURA**



**DÍDAC**



Amb dibuixos	
Amb reglets	Amb operacions



Solució: Han pescat ..... peixos en total.



**2** Laura té 28 cromos en un àlbum i en regala 12 a Maria. Quants cromos li queden a Laura? Barra i respon.

Laura té ..... cromos.

Regala a Maria ..... cromos.



Solució:

En l'àlbum de Laura queden ..... cromos.



**3** A l'autobús de l'escola anaven 36 xiquets, si en baixen 6 a la parada, quants xiquets es queden a l'autobús? Llig de nou el problema, pensa i encercla l'operació correcta.

L'autobús portava ..... xiquets.

Baixen ..... xiquets.



$$\begin{array}{r} 36 \\ + 6 \\ \hline 42 \end{array} \qquad \begin{array}{r} 36 \\ - 6 \\ \hline 30 \end{array}$$

Dibuixa el problema:



Solució: Queden ..... xiquets a l'autobús.



**4** Un pastor té 24 ovelles. Si n'ha deixat 13 tancades i la resta han eixit a pasturar, quantes ovelles haurà d'arreplegar el gos?

El pastor té ..... ovelles.

Hi ha ..... ovelles tancades.




Solució: El gos ha d'arreplegar ..... ovelles.

**5** En una granja, les gallines han post dos desenes d'ous de matí. Si a la vesprada en ponen una desena més, quantes desenes han post en total? Dibuixa.

Les gallines han post de matí ..... ous.

A la vesprada han post ..... ous.




Solució: Han post ..... ous en total.

**6** Tria l'enunciat correcte per a l'operació de més avall i resol.

Al jardí de Maria hi ha flors de molts colors: hi ha 2 roses blanques, 8 margarides grogues i 5 clavells rosa. Quantes roses té Maria al jardí?

Al jardí de Maria hi ha roses de molts colors: n'hi ha 2 de blanques, 8 de roges i 5 de grogues. Quantes roses té Maria al jardí?




$2 + 8 + 5 =$  ..... roses.

..... té ..... roses.

**7** Ximo és un pastisser molt famós que fa 8 pastissos cada dia. Si de matí en fa 6, quants pastissos li queden per preparar?

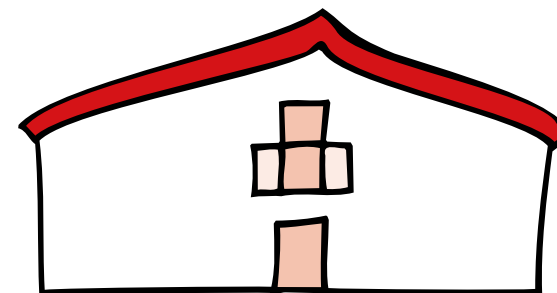
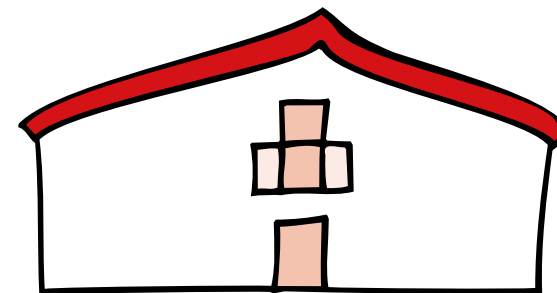
Ximo ha d'elaborar ..... pastissos.

Té preparats ..... pastissos.



Li queden per elaborar ..... pastissos.

**8** A la casa de la cultura de Burjassot, Daniel té exposats 6 quadres. Si a la casa de la cultura de Picassent en té el doble, quants quadres té exposats a Picassent?



A Picassent, Daniel té exposats ..... quadres.