



Quadern de problemes 1r

Primària • Matemàtiques




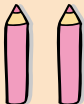
Consells per a resoldre els problemes


- Treballa en un lloc tranquil, ordenat i amb claror.
- Llig cada problema més d'una vegada, fins que ho entengues tot.
- Fixa't molt bé en la pregunta o les preguntes que es fan.
- Pensa què pots fer per a resoldre'l: sumar?, restar?
- Si cal, dibuixa el problema. Això t'ajudarà a trobar la solució.



Fixa't com hem resolt este problema.

1 Pere tenia 3 colors i li n'han regalat 2 més. Quants colors té Pere?

Dades: 
 Pere tenia 3 colors.
 Li'n regalen 2 més. 

 $3 + 2 = 5$

Solució: Ara Pere té 5 colors.

1 Carles ha comprat 4 taronges i Aitana n'ha comprat 1. Quantes taronges han comprat en total?

Dades: Carles ha comprat taronges.
 Aitana n'ha comprat .

$4 + 1 = \dots\dots$
 $4 + 1 = \dots\dots$



Solució: Entre els dos han comprat taronges.

2 Mireia ha agafat 2 floretes i la seua germana Pepa li'n regala 2 més. Quantes floretes té ara Mireia?

Dades: Mireia agafa floretes.
 Pepa li'n regala .

$2 + 2 = \dots\dots$
 $2 + 2 = \dots\dots$




Solució: Mireia té ara floretes.

3 Mireia li ha regalat una llibreta a Hassan. Si ja en tenia 4, quantes llibretes té ara Hassan?

Dades: Hassan tenia llibretes.
 Mireia li'n regala .

$1 + 4 = \dots\dots$
 $1 + 4 = \dots\dots$




Solució: Hassan té ara llibretes.

4 En un arbre hi havia 3 pardalets. Si n'han arribat 2 més, quants pardalets hi ha en total?

Dades: En un arbre hi havia pardalets.
N'arriben més.

$3 + 2 = \dots\dots$
 $3 + 2 = \dots\dots$



Solució: Hi ha pardalets en total.

5 Una caixa contenia 4 pilotes. Si Pere en fica 2 més, quantes pilotes hi ha a la caixa?


Dades: En una caixa hi havia pilotes.
Pere en fica més.


$4 + 2 = \dots\dots$




Solució: Ara hi ha pilotes a la caixa.

6 En una roca de la mar hi havia 3 carrancs i n'arriben 4 més. Quants carrancs hi ha ara a la roca? Pinta l'opció correcta.

$4 - 3 =$ 


$3 + 4 =$ 

$3 + 1 =$ 

7 En una illa viuen 5 lloros. Si n'arriben 4 més, quants lloros hi ha en total?


Dades: Hi havia lloros.
N'arriben més.

$5 + 4 = \dots\dots$



Solució: Ara hi ha lloros.

8 En una festa hi havia 5 cambrers. Si n'arriben 3 més, quants cambrers hi ha en total a la festa? Pinta la quantitat exacta.



Solució: A la festa hi ha cambrers.

9 Uns mariners tenen al vaixell 6 salvavides, i en col·loquen dos més. Quants salvavides hi ha ara al vaixell?

Dades: Al vaixell hi havia salvavides.
En col·loquen més.

$6 + 2 = \dots\dots$



Solució: Ara hi ha salvavides.