

# Quadern de Vacances



**1. Escriu una paraula que comence per cada una de les lletres de l'alfabet.**

A .....	G .....	M .....	S .....	Y .....
B .....	H .....	N .....	T .....	Z .....
C .....	I .....	O .....	U .....	
D .....	J .....	P .....	V .....	
E .....	K .....	Q .....	W .....	
F .....	L .....	R .....	X .....	

**2. Encercla les paraules que contenen dígrafs.**

carabassa	castanya	xiqueta	carretera
fletxa	botella	cara	platja
taula	jersei	metge	diccionari

**3. Ordena alfabèticament les paraules de l'activitat anterior.**

1. ....	4. ....	7. ....	10. ....
2. ....	5. ....	8. ....	11. ....
3. ....	6. ....	9. ....	12. ....

**4. Escriu les lletres que falten per a completar aquestes paraules relacionades amb el món dels llibres.**

<input type="text"/>	<input type="text"/>	<input type="text"/>	R	<input type="text"/>	<input type="text"/>	T	<input type="text"/>	→ persona que escriu llibres.
<input type="text"/>	L	<input type="text"/>	B	<input type="text"/>	<input type="text"/>	R	<input type="text"/>	→ botiga on es venen llibres.
<input type="text"/>	<input type="text"/>	C	<input type="text"/>	<input type="text"/>	<input type="text"/>	R	<input type="text"/>	→ persona que llig.
<input type="text"/>	I	<input type="text"/>	<input type="text"/>	<input type="text"/>	<input type="text"/>	<input type="text"/>	C	→ lloc on hi ha llibres ben ordenats i col·locats a fi que la gent els pugua consultar o llegir.



### 1. Completa.

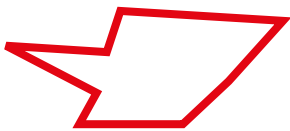
10 unitats = ..... desena    100 unitats = ..... desenes    1 centena = ..... unitats

### 2. Ordena de menor a major els nombres següents usant el signe <.

1.205    1.100    1.459    1.845    1.056    1.698    1.345

.....


### 3. Escriu els noms d'aquestes línies.



.....  
.....



.....  
.....



.....  
.....



.....  
.....

### 4. Completa les fraccions.



3 decímetres  $\rightarrow \frac{3}{10} \rightarrow 0,3$



..... decímetres  $\rightarrow \frac{\dots}{\dots} \rightarrow \dots$



..... decímetres  $\rightarrow \frac{\dots}{10} \rightarrow \dots$



..... decímetres  $\rightarrow \frac{\dots}{\dots} \rightarrow \dots$

### 5. Completa les sèries.



**1. Lee y clasifica las palabras con r que hay en el siguiente texto.**

La carretera que llevaba al restaurante tenía muchas curvas. Mi hermana Laura se mareó y tuvimos que parar en el arcén un rato. Cuando se recuperó, retomamos la marcha y, aun así, llegamos a la hora acordada.

r suave	r fuerte
.....	.....
.....	.....
.....	.....

**2. Escribe los signos ¡ ! y ¿ ? que faltan.**

- ..... Ni se te ocurra moverte.....
- ..... Por qué.....
- ..... Porque justo a tu derecha hay una rata enorme.....
- ..... Pues asústala cuanto antes, por favor.....



**3. Rellena esta ficha de libro con los datos del último que hayas leído.**

Título:	Autor/a:
Ilustrador/a:	Editorial:
Año de publicación:	
Género: <input type="checkbox"/> poesía <input type="checkbox"/> novela <input type="checkbox"/> teatro	
Número de páginas:	
Resumen del argumento:	
.....	
.....	

**4. Escribe varios mensajes en estos pósits destinados a un familiar.**

.....

.....

.....

.....

.....

.....

.....

.....

.....

.....

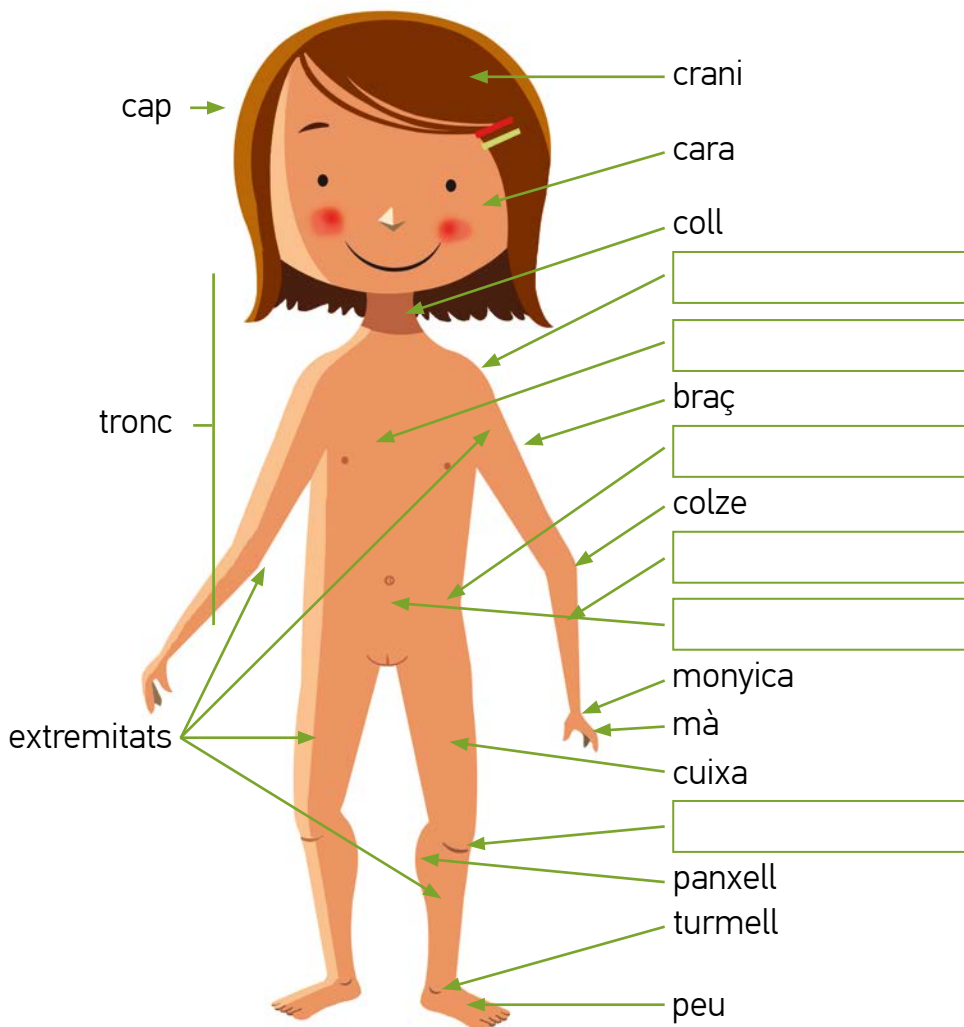
.....

.....



**1. Completa el dibuix amb els noms de les parts del cos que falten.**

maluc genoll tòrax muscle abdomen avantbraç



**2. Classifica els noms d'aquests ossos segons la part del cos on es troben.**

fèmur crani cúbit peroné radi mandíbula tibia húmer

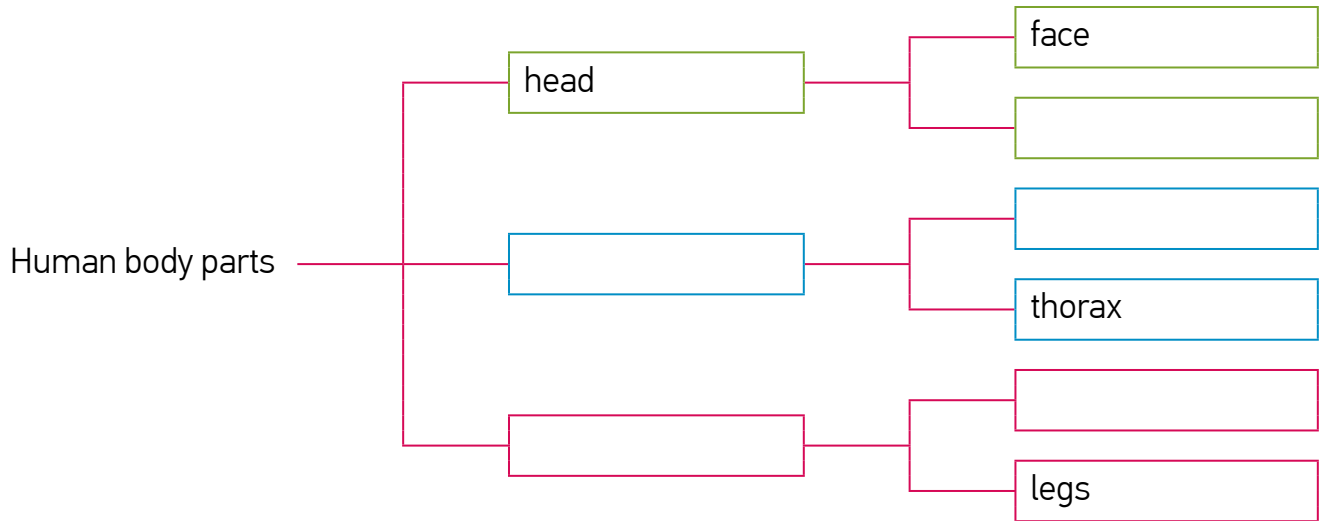
Cap	Braç	Cama
.....	.....	.....
.....	.....	.....

**3. Enllaça els òrgans següents amb els sistemes als quals pertanyen.**

- |                                     |                               |
|-------------------------------------|-------------------------------|
| Llengua, estómac i intestí gros •   | • Sistema urinari             |
| Testicles i escrot •                | • Sistema circulatori         |
| Fosses nasals, faringe i laringe •  | • Sistema reproductor masculí |
| Ovaris, úter, vagina i vulva •      | • Sistema respiratori         |
| Cor, artèries, venes i capil·lars • | • Sistema digestiu            |
| Renyons, urèters, bufeta i uretra • | • Sistema reproductor femení  |

**1. Fill in the gaps with these words. Colours can help you.**

arms skull abdomen torso extremities



**2. Match.**

hearing •

• nose •



smell •

• mouth •



touch •

• ear •



taste •

• eye •



sight •

• hand •



**3. Order the letters in colour to form words.**

• The part of your body where your arm is connected.

HOUSLEDR .....  
 NKEE .....

• The joint or region in the middle part of the human leg.

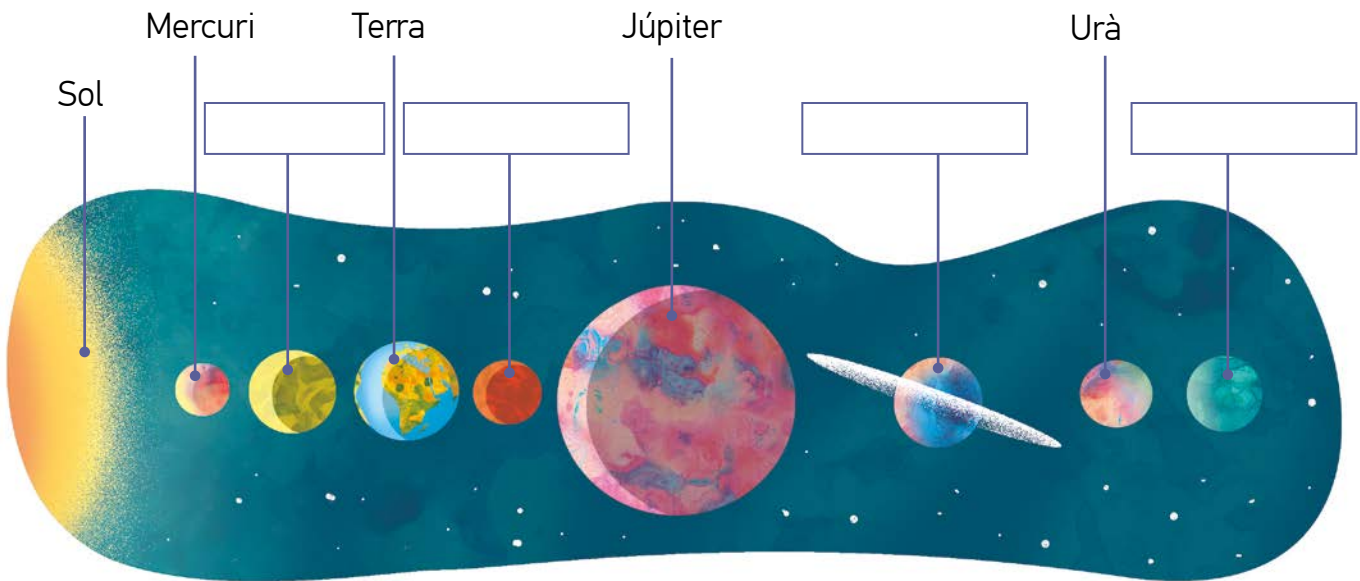
IBCPES .....

• A large muscle of the front of the upper arm.

IBCPES .....



## 1. Completa el dibuix amb els planetes que falten.



## 2. Indica a quina estació correspon cada una de les descripcions següents.

- Fa calor. Els arbres estan coberts de fulles. Els dies són més llargs. → .....
- Molts arbres es queden sense fulles. Fa més fred. Els dies són més curts. → .....
- Els camps s'omplien de flors i d'insectes. Els arbres tenen fulles noves. → .....
- Comença a refrescar. Cauen les fulles dels arbres. És època de pluges. → .....

## 3. Relaciona i completa el dibuix amb les parts que falten.

hidrosfera    nucli    escorça    atmosfera    mantell superior

- L'atmosfera... • és la part sòlida de la Terra.
- La geosfera... • està formada pels oceans, mars, rius i llacs.
- La hidrosfera... • és la capa gasosa que envolta la Terra.

CAPES DE LA TERRA

