

9

7



4

5



# Quadern de problemes 3<sup>r</sup>

Primària • Matemàtiques







**1** En la botiga d'animals del barri, hi ha 30 lloros, 25 cadernereres i 125 pit-rojos. Quantes aus hi ha a la venda?

**Dades:**

- ..... lloros
- ..... cadernereres
- ..... pit-rojos

**Pregunta:** .....

**Solució:** ..... aus a la venda.



**2** El forner de La Revolta ha fet aquesta matinada 356 pans, dels quals se n'han venut 225. Quants falten per vendre?

**Dades:**

- ..... pans ha fet
- ..... pans s'han venut

**Pregunta:** .....

**Solució:** ..... pans falten per vendre.



**3** Entre tota la classe hem portat 24 llibres per a la biblioteca d'aula, i els de 1r de l'any passat ens deixaren 20 llibres. Quants llibres tenim en total?

**Dades:**

- ..... llibres que hem portat
- ..... llibres que quedaven del curs passat

**Pregunta:** .....

**Solució:** ..... llibres per a la biblioteca d'aula.




**4** Una companyia d'autobusos organitza excursions per a escoles. En la classe de Pere han triat anar a Morella. Eixiran des de Castelló i esmorzaran a Albocàsser abans de continuar el viatge.

**Dades:**

- 57 km de Castelló a Albocàsser
- 53 km d'Albocàsser a Morella
- ..... km de Morella a Castelló

**Pregunta:** .....

**Solució:** ..... km recorreran en total.




**5** Júlia és la fruitera del mercat central de Bétera. Aquesta setmana ha venut 140 quilos de plàtans, 231 quilos de pomes i 126 quilos de peres. Quants quilos de fruita ha venut en total?

**Dades:**

- ..... kg de plàtans
- ..... kg de pomes
- ..... kg de peres

**Pregunta:** .....

**Solució:** ..... kg de fruita ha venut.




**6** Ximo té moltes gallines al corral. Hui han post 258 ous, però se li n'han trencat 25. Quants ous li han quedat?

**Dades:**

- ..... ous han post les gallines
- ..... ous s'han trencat

**Solució:** ..... ous queden.




7

En l'aparcament del centre comercial hi havia 795 cotxes quan hem arribat, però segons el panell, ara només en queden 300. Quants cotxes se n'han anat?

Pregunta: .....

Solució: ..... cotxes se n'han anat.



Grid for writing the answer to question 7.

8

Paula i Andreu, que fan anys el mateix dia, van portar 32 piruletes i 63 esponges per a repartir-les a la classe. Demà, Joan i jo fem anys, i portarem 63 piruletes i 32 esponges. Quin dels dos dies podrem repartir més llepolies?


Dades:

Paula i Andreu: ..... piruletes i ..... esponges

Joan i jo: ..... piruletes i ..... esponges

Pregunta: .....

Solució: .....



Grid for writing the answer to question 8.

9

A l'escola de Pere arrepleguen joguets per a una ONG. Han aconseguit 89 balons de futbol i 101 nines. A l'escola de la seua cosina Mariola han arreplegat 101 balons i 89 nines. Quina escola ha aconseguit més joguets?

Dades:

Escola de Pere: ..... balons i ..... nines

Escola de Maria: ..... nines i ..... balons

Solució: .....



Grid for writing the answer to question 9.

10

Eixim d'Alacant cap a Tarragona i fem 195 km, parem a esmorzar i recorrem els 251 km que faltaven. A la tornada, eixim de Tarragona, recorrem 251 km per a parar a esmorzar en el mateix lloc i continuem el viatge recorrent els 195 km que faltaven. Què és més llarg, l'anada o la tornada?

Dades:

Viatge d'anada: ..... i ..... km

Viatge de tornada: ..... i ..... km

Pregunta: .....

Solució: .....

Grid for writing the answer to question 10.

11

El iaio de Blai i el de Miquel tenen camps de caquis i magranes. El iaio de Blai ha collit del seu camp 50 kg de caquis i 82 kg de magranes, i el de Miquel, 82 kg de caquis i 50 kg de magranes del seu. Quin dels dos ha collit més quilos de fruita?

Dades:

laio de Blai: ..... caquis i ..... magranes

laio de Miquel: ..... caquis i ..... magranes

Pregunta: .....

Solució: .....

Grid for writing the answer to question 11.

12

La senyora Paca té una pomera que dona pomes ben dolces. N'ha collit en total 590, però 152 estaven picades dels pardals. Quantes n'hi ha en bon estat?

Solució: .....

